

Pregúntate si lo que estás haciendo hoy, te llevará a donde quieres estar mañana. (Walt Disney)

# PRUEBA DE APTITUD INTELECTUAL

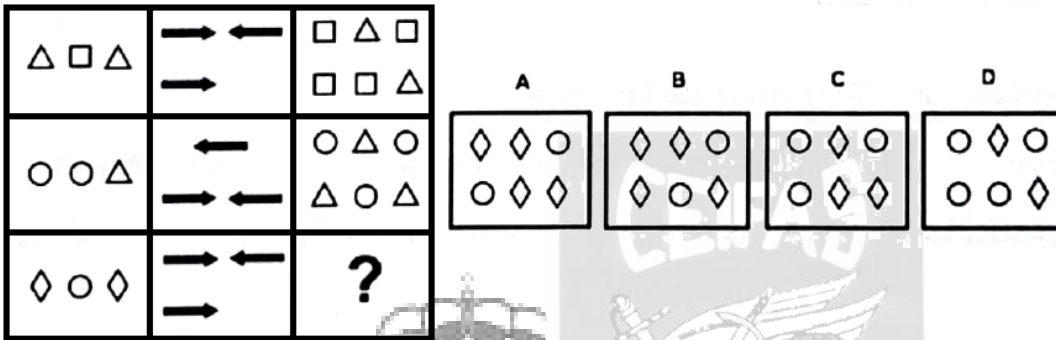
**20 PREGUNTAS  
10 MINUTOS**

ACIERTOS 1 PUNTO, ERRORES -0,33 PUNTOS, EN BLANCO 0 PUNTOS  
SOLO EXISTE UNA OPCIÓN CORRECTA. CONTESTE EN SU HOJA DE RESPUESTAS MECANIZADA.

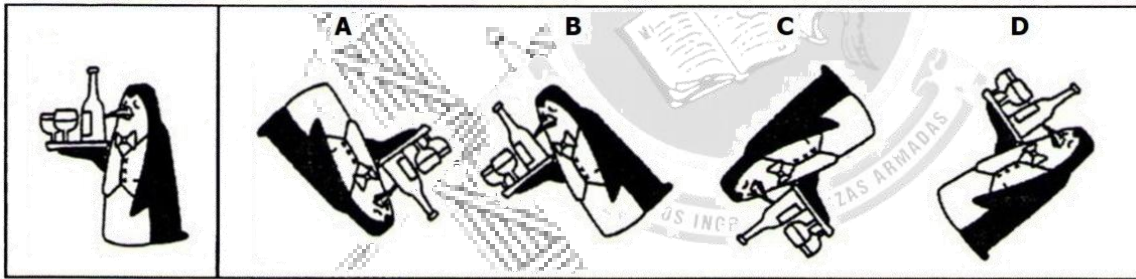
1.- Al comprar un ordenador que valía 400 euros me han realizado un descuento de 80 euros, ¿qué tanto por ciento de descuento me han aplicado?

- A) 6% B) 15% C) 20% D) 30%

2.- ¿Qué figura sigue la serie?



3.- ¿Qué figura resulta al aplicar las órdenes siguientes?



1. Volteo Horizontal      2. Volteo Vertical      3. Giro 45° sentido reloj

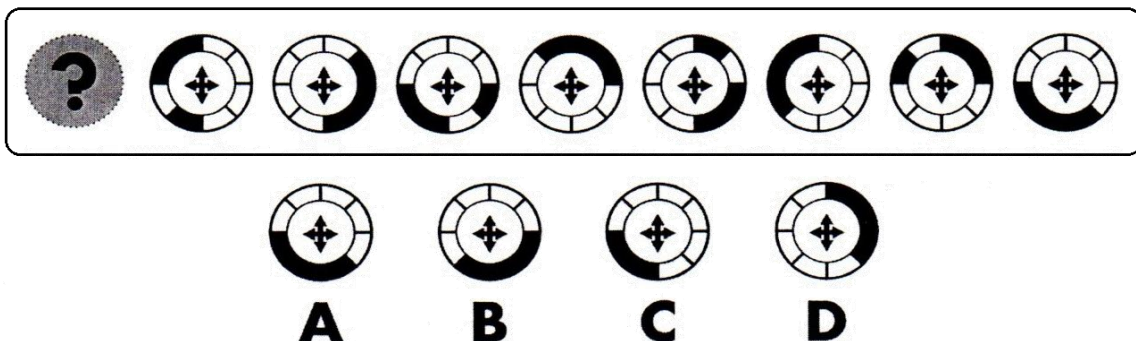
4.- Teniendo en cuenta la siguiente información, ¿cuál es el valor del interrogante?

**Clave**

$2 + \bullet = \square + \circ$	$\frac{\square}{\blacksquare + \blacktriangleup}$	$\frac{\text{pentagon}}{\text{pentagon}}$	$\frac{\circ}{9}$	$\frac{?}{\blacksquare + \blacktriangleup}$	$\frac{\bullet}{\blacksquare + \circ}$
---------------------------------	---	---	-------------------	---	--

A) 4  
B) 5  
C) 6  
D) 7

5.- ¿Qué figura A, B, C o D debe sustituir al interrogante para continuar la serie lógica?



6.- ¿Qué figura resultaría de aplicar las siguientes órdenes?

7.- Siguiendo el orden, ley o regla implícita, ¿qué figura de completará la parte que falta en el recuadro?

8.- Señale el antónimo de ABSTEMIO.

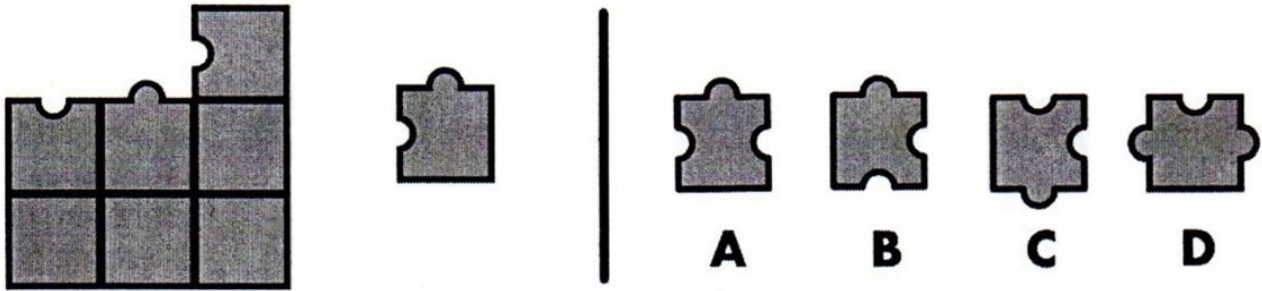
- A) Beodo      B) Abstinente      C) Abstracto      D) Absurdo

9.- Observe la siguiente imagen e indique qué afirmación la describe de manera más precisa.

- A) Tan solo entre las figuras blancas se pueden encontrar dos figuras idénticas.      B) El número de figuras blancas duplica a la suma de las restantes.      C) Las figuras negras difieren en su tamaño, aunque no los cuadrados.      D) El número de figuras con más de tres lados es inferior al número de círculos.

10.- ¿Qué figura es diferente al resto?

11.- ¿Cuál de las piezas A, B, C o D completa el puzle para combinarla con las piezas de la izquierda?



12.- ¿Qué definición se ajusta mejor a PREMURA?

- A) Acuerdo previo que precisa ser ultimado.
- B) Recompensa o galardón que se da por un mérito.
- C) Rodeo antes de entrar en materia o decir algo.
- D) Aprieto, apuro, prisa, urgencia, instancia.

13.- Según la tabla, si el importe de cada multa fue de 50 €, ¿cuánto se recaudó entre el municipio 2 y 5 juntos?

Número de agentes, habitantes y multas por municipio

	N.º de agentes	N.º de habitantes	N.º de multas
Municipio 1	?	1.100	600
Municipio 2	20	900	300
Municipio 3	80	?	800
Municipio 4	50	3.500	450
Municipio 5	40	2.500	500

- A) 20.000 €
- B) 30.000 €
- C) 40.000 €
- D) 40.000 €

14.- ... es a TRÓPICO como GLACIAL es a ...

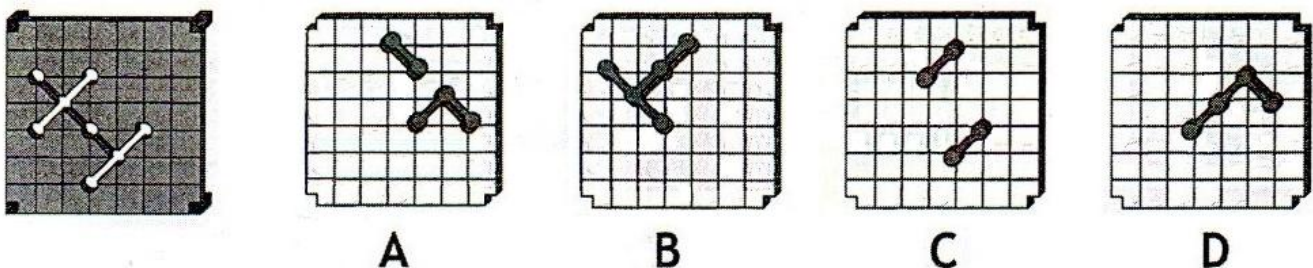
- A) Polo - frío
- B) Cálido - ártico
- C) Ecuador - frío
- D) Polo - selva

15.- Resuelva:

$$\frac{51+41-20}{3^2} \times 5 + \frac{25-10}{3} =$$

- A) 80
- B) 45
- C) 55
- D) 60

16.- ¿Cuál de las piezas A, B, C o D es la única que encaja con los orificios de la pletina de la izquierda?

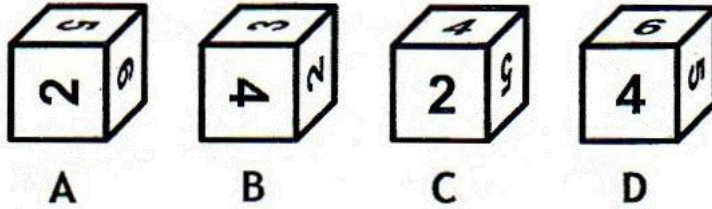
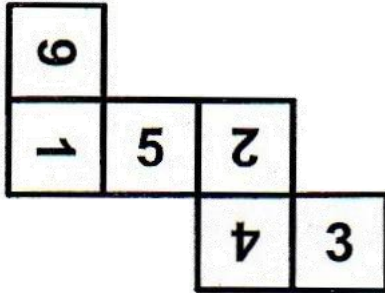


17.- ¿Qué numeración debe aparecer a continuación?

Valla - 122 ; Serenas - 22111 ; Codiciada - \_\_\_\_\_

- A) 11222    B) 22211    C) 21222    D) 22122

18.- ¿Qué figura resulta de plegar el modelo de la izquierda?



19.- ¿Qué figura resulta de la suma de las siguientes?



20.- Resuelva:

$$21 + 113 + y = 18 + 2 - y$$

$$y = ?$$

- A) -57    B) 59    C) -56    D) 65

**FIN DE LA PRUEBA ...**